

QUESTIONNAIRE DE POSITIONNEMENT

« Générateur photovoltaïque raccordé au réseau - haute puissance »

Prénom :

Nom :

Date :

Société :

AUTOEVALUATION

Situez vos connaissances dans les domaines suivants :

	Jamais vu	Vu les bases	Utilisé parfois	Maitrisé
Unités, formules, mesures, schémas	<input type="checkbox"/>	<input type="checkbox"/>	<input type="checkbox"/>	<input type="checkbox"/>
Réglementation électrique	<input type="checkbox"/>	<input type="checkbox"/>	<input type="checkbox"/>	<input type="checkbox"/>
Protection des biens et des personnes	<input type="checkbox"/>	<input type="checkbox"/>	<input type="checkbox"/>	<input type="checkbox"/>
Connaissances en photovoltaïques (PV)	<input type="checkbox"/>	<input type="checkbox"/>	<input type="checkbox"/>	<input type="checkbox"/>
Niveau d'habilitation électrique				

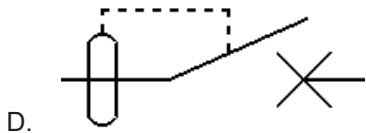
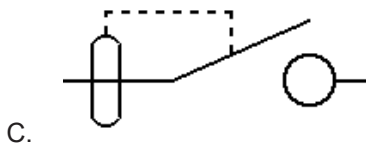
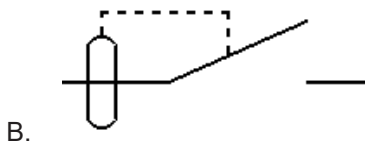
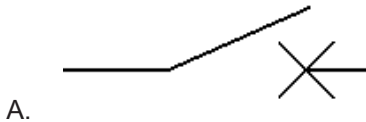
QUIZZ

Unités, formules, mesures, schémas

1. Avec quoi mesure-t-on une intensité ?

- A. V.A.T
- B. Wattmètre
- C. Voltmètre
- D. Pince ampéremétrique

2. Quel schéma représente un "disjoncteur différentiel" ?



Réglementation électrique

3. Quelle est la norme électrique de référence dans l'habitat individuel ?

- A. EN 61000-3-3
- B. RT 2012
- C. DTU 60.1
- D. NFC 15 - 100

4. A quoi correspond l'indice IP ?

- A. Le degré de protection contre la pénétration de corps solides et de l'eau
- B. Un Schéma de Liaison à la Terre (SLT)
- C. Le degré de protection contre les impacts mécaniques externes
- D. Une intensité et une puissance

Protection des biens et des personnes

5. Ces propositions correspondent à des Schémas de Liaison à la Terre, sauf une. Laquelle ?

- A. TT
- B. IN
- C. IT
- D. TN

6. Quelle solution permet d'assurer efficacement la protection des biens et des personnes ?

- A. Disjoncteur de branchement 500 mA
- B. **Protection des biens** : interrupteur différentiel 30 mA + circuit de mise à la terre
Protection des personnes : disjoncteur divisionnaire magnéto-thermique
- C. **Protection des biens** : classe de protection 1 minimum
Protection des personnes : Tension inférieure à 500 V
- D. **Protection des biens** : disjoncteur divisionnaire magnéto-thermique
Protection des personnes : interrupteur différentiel 30 mA + circuit de mise à la terre

7. Quelle est la section du conducteur principal de terre (reliant la barrette de coupure au répartiteur de terre principal du tableau électrique) ?

- A. 10 mm²
- B. 18 mm²
- C. 10 ou 16 mm² (en fonction de la nature et de la section du conducteur actif du câble de branchement disjoncteur-tableau)
- D. 10 ou 18 mm² (en fonction de la nature et de la section du câble de branchement disjoncteur-tableau)

Connaissances en photovoltaïques (PV)

8. Quel paramètre n'influence pas la production photovoltaïque ?

- A. L'emplacement géographique
- B. La consommation du client
- C. L'orientation de mes capteurs
- D. L'inclinaison de mes capteurs

9. Quel outil est inutile pour faire mon relevé de masque ?

- A. Caméra infrarouge
- B. Boussole
- C. Diagramme solaire
- D. Clinomètre

10. Quel organe sépare la partie "Module PV" et la partie "Habitation" ?

- A. Disjoncteur différentiel 30 mA
- B. Disjoncteur de branchement EDF
- C. Interrupteur-sectionneur
- D. Onduleur